

CUADERNILLOS 4º ESPAD

ÁMBITO DE SOCIEDAD

1

CONDICIONES PARA APROBAR EL CURSO:

- Se deben tener superado el **Ámbito de Sociedad** en los cursos anteriores: **1º, 2º y 3º de ESPAD**.
- Hay que **superar los tres bloques**. Se supera un bloque al obtener 5 o más puntos al sumar los resultados de la prueba escrita (8 puntos, 80%) y del cuadernillo (2 puntos, 20%). Tenga en cuenta que:
 - **La prueba escrita** se realiza sobre 8 puntos, por lo que se recomienda entregar los cuadernillos para no tener la necesidad de llegar al 5 supondrá obtener un 5 de 8 puntos que es el total. Se ruega puntualidad ya que hay un pequeño margen de tiempo para salir o entrar tarde.
 - **Los cuadernillos** no son obligatorios, pero es muy recomendable hacerlos ya que hacen mucho más accesible el aprobado. Debe tenerse en cuenta lo siguiente:
 - Pueden realizarse **a mano** (bolígrafo azul o negro) u **ofimáticamente** (Word, LibreOffice...)
 - Los **plazos** de entrega son rígidos, entregarlo una semana tarde supone que la clasificación del bloque no supere nunca los 5 puntos.
 - Independientemente de cómo se rellene, se puede entregar directamente o enviarlo a lldg07@educastillalamancha.es como Word, LibreOffice, PDF o PDF escaneado. **¡ATENCIÓN!** **No se aceptan** documentos fotografiados, archivos por Whatsapp, documentos escaneados deficientemente (hojas desordenadas, imágenes borrosas, textos ilegibles...)

El **día 20 a las 18h** Pedro y Pilar, director y orientadora, realizarán una **reunión online** para los alumnos de distancia y para las aulas. Este es el enlace para verla: <https://meet.jit.si/ESPAD>

Cuadernillos y exámenes	FECHAS IMPORTANTES
Cuadernillo Bloque 10 (Temas 1, 2 y 3)	Hasta el 15 de MARZO de 2024
Cuadernillo Bloque 11 (Temas 4, 5 y 6)	Hasta el 15 de ABRIL de 2024
Cuadernillo Bloque 12 (Temas 7, 8 y 9)	Hasta el 17 de MAYO de 2024
Examen SOCIEDAD Parcial* (bloq. 1 y 2)	El 22 de ABRIL de 2024 a las 19:00
Examen SOCIEDAD Ordinario**	El 4 de JUNIO de 2024 a las 19:00
Examen SOCIEDAD Extraordinario***	El 17 de JUNIO de 2024 a las 19:00
* En el parcial entran los bloques 10 y 11 y son eliminatorios (bloque aprobado se considera superado). ** En el ordinario entran los tres bloques, el 12 y los que no se superasen en el parcial (10 o/y 11). *** Se examinará de los bloques no superados. NO se guardan bloques superados para otros cursos.	

El [Libro de 4º de ESPA y ESPAD](#) puedes utilizarlo desde tu ordenador, tablet o móvil, aunque la pantalla del teléfono es un poco incómoda. Si lo quieres en papel lo puedes imprimir por tu cuenta o comprarlo en la copistería de ASPRONA (Villarrobledo).

Puede comunicarse conmigo a través de los teléfonos del centro, escribiendo al correo electrónico lldg07@educastillalamancha.es o a través de Comunicaciones de la plataforma [EducamosCLM](#). Es conveniente que vayan pidiendo sus credenciales y formándose en el manejo de la plataforma y su entorno de aprendizaje, porque en la plataforma se expone el desarrollo de las clases de 4º de ESPAD en Villarrobledo. Para un **contacto más cercano y personal** puede acercarse al CEPA o a las aulas:

2

CEPA y AEPAS	Profesores responsables
Centro cabecera de Villarrobledo	Luis Durán Güell
AEPA de El Bonillo	Ana María Hernández
AEPA Munera	Juan Francisco Jiménez Portero
AEPA Ossa de Montiel	Ana María Mora Canales
AEPA Lezuza	Ascensión del Salto Ramírez
AEPA Alcaraz	María José Hernández Fernández

[Geografía e historia en la educación permanente](#) es el blog del profesor donde tienes un espacio dedicado a [4º de ESPAD](#) (con el libro, los cuadernillos...) y otro espacio con [materiales](#) que pueden ser de utilidad. Para una **organización mejor de su trabajo** le propongo que elabore su propio calendario, considerando que el curso es extremadamente corto y va muy ajustado de tiempo. Aquí tiene la secuenciación propuesta:

Clase de 4ºB de ESPAD. Martes de 19:00 a 22:00 h.		Propuesta de Secuenciación de temas a impartir en las tutorías colectivas (clases) de los miércoles.
1ª clase el	martes, 13 de febrero de 2024	Presentación y comienzo del Tema 1: Primera Guerra Mundial.
2ª clase el	martes, 20 de febrero de 2024	Las Revoluciones rusas (Tema 1) y Entreguerras (Tema 2)
3ª clase el	martes, 27 de febrero de 2024	Crisis de 1929 y ascenso de los fascismos (Tema 2).
4ª clase el	martes, 5 de marzo de 2024	Fin del Tema 2 y comienzo del Tema 3 con el reinado de Alfonso XIII.
5ª clase el	martes, 12 de marzo de 2024	Il República y Guerra Civil (Tema 3)
	viernes, 15 de marzo de 2024	Entrega del cuadernillo del primer bloque (Temas 1, 2 y 3).
6ª clase el	martes, 19 de marzo de 2024	Segunda Guerra Mundial y Guerra Fría (Tema 4)
Vacaciones de Semana Santa		
7ª clase el	martes, 2 de abril de 2024	Descolonización (Tema 4) y Franquismo (Tema 5)
8ª clase el	martes, 9 de abril de 2024	Transición (Tema 5) y Arte del siglo XX (Tema 6)
	lunes, 15 de abril de 2024	Entrega del cuadernillo del segundo bloque (Temas 4, 5 y 6).
9ª clase el	martes, 16 de abril de 2024	La Unión Europea (Tema 7)
10ª clase el	martes, 23 de abril de 2024	La UE y el fin del comunismo (Tema 7) (22 abril parcial primeros dos bloques)
Puente del día del Trabajo		
11ª clase el	martes, 7 de mayo de 2024	De la crisis del 73 al siglo XXI (Tema 7)
12ª clase el	martes, 14 de mayo de 2024	La España actual (Tema 8).
	miércoles, 15 de mayo de 2024	Entrega del cuadernillo del tercer bloque (Temas 7, 8 y 9).
13ª clase el	martes, 21 de mayo de 2024	Actividad económica, interculturalismo, inclusión social, diversidad.... (Tema 9)
14ª clase el	martes, 28 de mayo de 2024	Repaso general antes del examen ordinario y/o ajuste de temario.
	martes, 4 de junio de 2024	Examen FINAL ORDINARIO
	viernes, 7 de junio de 2024	Evaluación Ordinaria y posterior publicación de notas.
15ª clase el	martes, 11 de junio de 2024	Repaso para los alumnos con partes pendientes que van al extraordinario
	lunes, 17 de junio de 2024	Examen FINAL EXTRAORDINARIO
	martes, 25 de junio de 2024	Evaluación Extraordinaria y posterior publicación de notas.

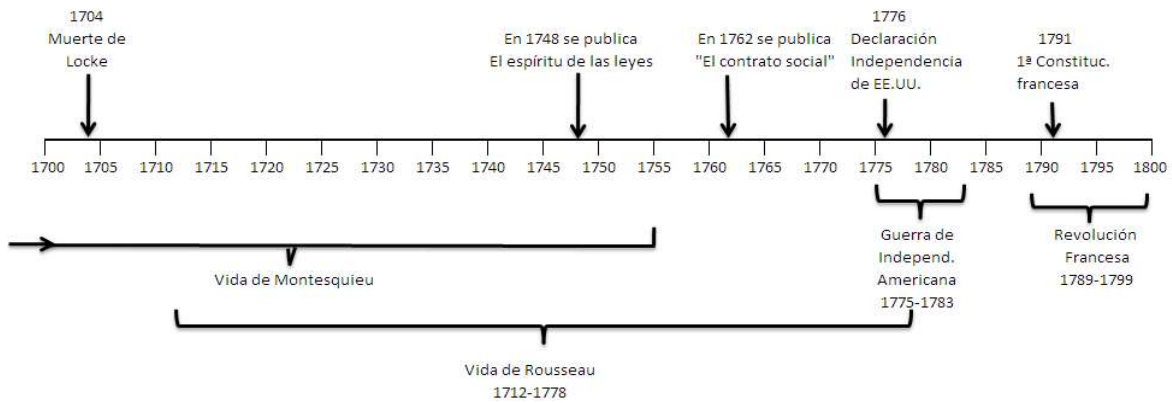
4º ESPAD – Ámbito **Sociedad**

Cuadernillo **BLOQUE 10** (Temas 1, 2 y 3) Págs. 3 a 8

Entrega hasta el 15 de MARZO de 2023

1º Apellido:	2º Apellido:	NOTA
Nombre:	Edad:	
Localidad de residencia:		Sobre 2 puntos

3



1. Observe el ejemplo y realice un **eje cronológico claro y proporcionado** mostrando los siguientes acontecimientos. Son los años que **debe estudiar** en los Bloques 10 y 11. *(0,15 puntos)*

- Comienzo y fin de la Guerra civil española
- Comienzo y fin de la I Guerra Mundial
- Comienzo y fin de la II Guerra Mundial
- Crack de la Bolsa de Nueva York
- Revolución bolchevique
- Muerte de Franco
- Constitución española (la actual)
- Caída del Muro de Berlín
- Proclamación de la II República española
- Disolución de la URSS

2. Complete la siguiente tabla sobre la **Gran Guerra**. (0,30 puntos)

Primera Guerra Mundial	
Alianza y países vencedores	
Alianza y países perdedores	
Explique el papel de Rusia en la guerra y su salida.	
Cite tres consecuencias	
Cuál considera la causa principal de la guerra, razone su respuesta.	

4

3. Escriba el nombre del país que corresponde a cada número y responda a la pregunta. (0,15 p)



Nuevo mapa de Europa en 1919

- 1->
- 2->
- 3->
- 4->
- 5->

¿El territorio B a qué país correspondía?

4. Estudie estos **documentos** y conteste a las preguntas o señale la respuesta correcta:

DOCUMENTO 1

“La ideología nacional racista ve el valor de la humanidad en sus elementos raciales de origen. En principio considera el Estado sólo como un medio hacia un determinado fin y cuyo objetivo es la conservación racial del hombre. De ninguna manera cree, por tanto, en la igualdad de las razas, sino que, por el contrario, al admitir su diversidad, reconoce también la diferencia cuantitativa existente entre ellas.

Esa persuasión de la verdad le obliga a fomentar la preponderancia del más fuerte y a exigir la supeditación del inferior y del débil, de acuerdo con la voluntad inexorable que domina el universo.

(...) El Estado tiene que empezar por hacer de la cuestión raza el punto central de la vida general; tiene que velar por la conservación de su pureza y tiene también que consagrar al niño como el bien más preciado de su pueblo. Esta obligación a cuidar de que sólo los individuos sanos tengan descendencia.

(...) Todos aquellos que, en este mundo, no son de raza pura, no son más que desechos.

Meim Kampf (1924)

DOCUMENTO 3 →

Poema “Si esto es un hombre”, al comienzo del libro homónimo de Primo Levi. Superviviente del campo de Marowice dependiente del de Auschwitz

DOCUMENTO 4

Una mentira repetida adecuadamente mil veces se convierte en una verdad.

Paul Joseph Goebbels

DOCUMENTO 2



*Los que vivís seguros
En vuestras casas caldeadas
lo que os encontraréis, al volver por la tarde,
La comida caliente y los rostros amigos:*

*Considerad si es un hombre
Quien trabaja en el fango
Quien no conoce la paz
Quien lucha por la mitad de un panecillo
Quien muere por un sí o por un no.
Considerad si es una mujer
Quien no tiene cabellos ni nombre
Ni fuerzas para recordarlo
Vacía la mirada y frío el regazo
Como una rana invernal.*

*Pensad que esto ha sucedido:
Os encomiendo estas palabras.
Grabadlas en vuestros corazones
Al estar en casa, al ir por la calle,
Al acostaros, al levantaros;
Repetídselas a vuestros hijos.
O que vuestra casa se derrumbe,
La enfermedad os imposibilite,
Vuestros descendientes os vuelvan el rostro.*

5

4.1. ¿Quién escribió Meim Kampf, a qué partido pertenecía, cuál fue la razón de que lo escribiera en la cárcel y cómo murió este autor? (0,10 puntos)

4.2. ¿Qué rasgos del fascismo identificas en el texto de Meim Kampf? (0,10 puntos)

4.3. ¿Los documentos 2 y 3 a qué acontecimiento hacen alusión? (0,05 puntos)

- | | |
|--------------------|------------------------|
| a) Hecatombe judía | c) Gran Hambruna |
| b) Holocausto | d) Holodomor ucraniano |

4.4. ¿Dónde ocurrieron principalmente este acontecimiento? (0,05 puntos)

- | | |
|---|----------------------|
| a) Campos de trabajo y reeducación | c) Checas soviéticas |
| b) Campos de concentración y exterminio | d) Gulags |

4.5. ¿Cuál fue el grupo mayoritario de víctimas? (0,05) _____

4.6. ¿Existieron otros colectivos asesinados masivamente? ¿Cuáles? (0,05 puntos)

4.7. Describe, con tus palabras, la fotografía (Doc.2) y ponlo en relación con el texto (Doc 1) sin olvidarse de hacer tu propia valoración moral y personal. (0,10 puntos)

4.8. Lee el poema de Primo Levi (Doc 3), la cita de Goebbels (Doc 4) y visita la página de [Yad Vashem](https://www.yadvashem.org/es.html), (<https://www.yadvashem.org/es.html>) para hacer una reflexión personal sobre la importancia de los testimonios de los supervivientes y de la memoria histórica en general. (0,10 p)

5. Indique la respuesta correcta a estas preguntas sobre la **Segunda República**. (0,05p x4pr = 0,20)

- 5.1. ¿Qué pasó con la monarquía de Alfonso XIII al llegar la dictadura de Primo de Rivera?
- Tuvo que ir al exilio y ya nunca volvió a recuperar el trono, aunque Berenguer lo pretendía.
 - Su imagen quedó dañada al seguir reinando mientras el gobierno era una dictadura.
 - No le afectó en absoluto porque el rey ya había muerto.
 - Alfonso XIII fue juzgado y sentenciado a muerte por jueces a las órdenes del dictador.
- 5.2. Tras la dictadura de Primo de Rivera...
- El general Berenguer impone una férrea dictadura durante 10 años.
 - Berenguer proclamó la II República con un alzamiento militar.
 - Se convocaron unas elecciones municipales que terminaron con el reinado de Alfonso XIII.
 - Estalló la Guerra Civil española.
- 5.3. Durante el gobierno de Berenguer la oposición planificó derribar la monarquía en...)
- San Sebastián, Guipúzcoa.
 - Gijón, Asturias.
 - Ostende, Bélgica.
 - Munich, Alemania.
- 5.4. La llegada de la Segunda República fue...
- Pacífica e inesperada
 - Violenta y convulsa,
 - Abrupta y bélica
 - Por decisión real

6. Rellene esta tabla sobre la **Segunda República** española. (0,15 puntos)

Tendencia	Etapa	Principales acontecimientos o reformas	Problemas y violencia
Izquierda	Gobierno provisional		
Izquierda			
Derecha			
Izquierda			

7. ¿Por qué la crisis financiera de 1929 sumió a Estados Unidos en la Gran Depresión y llevó al mundo al desastre? (0,15 puntos)

8. Lea el texto y responda a las preguntas o señale la respuesta correcta: (0,05 puntosx6pregs = 0,30)

Tan pronto tenga éxito el movimiento nacional, se constituirá un Directorio, que lo integrará un presidente y cuatro vocales militares. Estos últimos se encargarán precisamente de los ministerios de la Guerra, marina, Gobernación y Comunicaciones. El Directorio ejercerá el Poder con toda su amplitud, tendrá la iniciativa de los Decretos-Leyes que se dicten, los cuales serán refrendados por todos sus miembros. [...] Los primeros Decretos-Leyes serán los siguientes:

- a) Suspensión de la Constitución de 1931.
- b) Cese del presidente de la República y miembros del Gobierno.

Instrucción reservada del General Mola

8.1. ¿A qué se refiere Mola al hablar de “el movimiento nacional”?

- a) A la declaración de guerra de Azaña
- b) A la declaración de guerra contra Marruecos
- c) La sublevación armada de parte del ejército para alcanzar el poder por parte d
- d) A la sublevación de los mineros de Asturias

8.2. ¿Qué guerra comenzó por este “movimiento nacional”? _____

8.3. ¿Qué países apoyaron activamente al gobierno de la República?

- a) Alemania e Italia
- b) Reino Unido y Francia
- c) URSS y México
- d) Estados Unidos y China

8.4. ¿Quién se autodenominaba como “nacionales”? _____

8.5. ¿La provincia de Albacete al estallar la guerra en qué bando se encontraba? _____

8.6. ¿Cómo se llamaba a los voluntarios internacionales que vinieron en apoyo de la República?

- a) Juventudes Unificadas PCE-PSOE
- b) Brigadas Internacionales
- c) Comité de Intervención
- d) Fuerzas Internacionales de Intervención

CUADRO DE CORRECCIÓN- NO ESCRIBIR – ANOTACIONES DEL PROFESOR

1-15, 2-30, 3-15, 4-60, 5-20, 6-15, 7-15, 8-30

4º ESPAD – Ámbito **Sociedad**

Cuadernillo **BLOQUE 11** (Temas 4, 5 y 6) Págs. 9 a 14

Entrega hasta el 15 de ABRIL de 2023

1º Apellido:	2º Apellido:	NOTA
Nombre:	Edad:	
Localidad de residencia:		Sobre 2 puntos

9

1. Responde a estas preguntas sobre la II Guerra Mundial. *(0,05 puntos x 8 preguntas = 0,40)*

1.1. Pon a cada país una **E** si pertenecía al Eje o una **A** si pertenecía a los Aliados.

Alemania ___ Reino Unido ___ URSS ___ Francia ___ Italia ___ Japón ___

1.2. Estados Unidos en la Segunda Guerra Mundial por...

a)

b) El bombardeo japonés de Pearl Harbour

d) La invasión alemana de Polonia.

c) La construcción del muro de Berlín

e) Desembarcar en Normandía

1.3. Relaciona los Sudetes y el Anschluss de Austria con el comienzo de la IIGM

1.4. ¿Aproximadamente cuántas personas perdieron la vida en la Segunda Guerra Mundial?

1.5. ¿Qué trágicos sucesos se produjeron en Hiroshima y Nagasaki?

1.6. ¿Qué batallas supusieron un giro negativo en la guerra para las fuerzas del Eje?

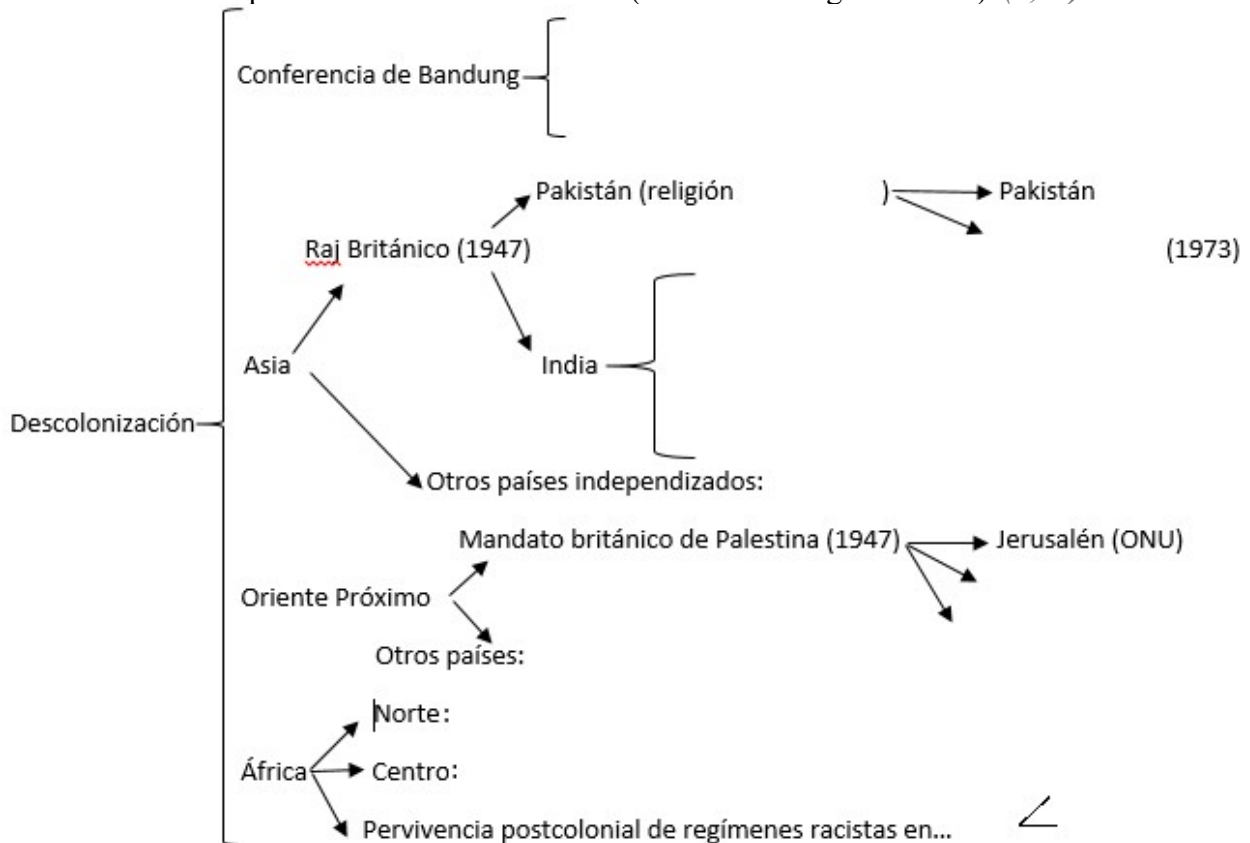
1.7. Explica el Pacto de No Agresión Germano-Soviético.

1.8. Haz una valoración política y personal del Pacto de No Agresión Germano-Soviético.

2. Rellena la tabla sintetizando las características de cada bloque de la Guerra Fría en los aspectos señalados en la columna central. (0,05p x 5 aspectos = 0,25)

COMUNISTA	<-- Bloque -->	CAPITALISTA
	<-- Superpotencia -->	
	<-- Política --> (partidos, sistema...)	
	<-- Economía -->	
	<-- Alianza militar -->	
	<-- Alemanias --> (nombre completo de cada una de ellas, no valen las siglas)	

3. Rellena este esquema de la **Descolonización** (recomiendo seguir el libro). (0,15)



4. Responda a estas preguntas o señale la respuesta correcta. *(0,05p x 5 preguntas= 0,25)*

4.1. El régimen de Franco se instauró por...

- a) La Segunda Guerra Mundial
- b) La Guerra Civil
- c) Un golpe de Estado
- d) Por designación de Alfonso XIII

4.2. La primera fase del régimen de Franco se caracteriza por...

- a) La autarquía y el aislamiento internacional.
- b) La colaboración con los Estados Unidos.
- c) La modernización del país con la SEAT
- d) La intervención en Portugal

4.3. Escriba un ejemplo de represión en la postguerra ocurrido en su provincia, y cite su fuente.

4.4. La fase del desarrollismo fue llevada a cabo gracias a la acción política de...

- a) Las fuerzas democráticas de la oposición
- b) La implantación de las Autonomías
- c) Los tecnócratas del Opus Dei
- d) Los jóvenes de Falange Española

4.5. El régimen de Franco desapareció con...

- a) El golpe de Estado de julio y la Transición
- b) La muerte del dictador y la Transición
- c) La segunda guerra civil española
- d) La huida al exilio de Franco y la Transición

5. Responda a estas preguntas. *(0,10p x 3 preguntas= 0,30)*

5.1. ¿Quién fue Adolfo Suárez, cuál fue su partido y qué hizo durante la Transición?

5.2. ¿Por qué fue tan importante la Ley de la Reforma Política de 1976?

5.3. ¿Qué fue la Marcha Verde? ¿Por qué consideras que triunfo?

6. Señala la respuesta correcta (test) o responde la pregunta. (0,05 puntos x 10 preguntas= 0,5)

6.1. Este cuadro es una obra...

- a) Surrealista c) Abstracta
- b) Expresionista d) Futurista


6.2. ¿Nombre del autor?

- a) Kirchnner c) Miró
- b) Franz Marc Munch

6.3. ¿Nombre del cuadro y qué mensaje transmite?




6.4. ¿Nombre del cuadro, autor y acontecimiento al que hace referencia?



6.5. Este cuadro es obra del pintor surrealista español...

- a) Picasso c) Miró
- b) Dalí d) Juan Gris

6.6. ¿Nombre del cuadro?



6.7. Este cuadro es obra del pintor surrealista español...

- a) Picasso c) Miró
- b) Dalí d) Juan Gris

6.8. ¿Cómo se define este surrealismo?

- a) Abstracto b) Lírico



6.9. El título de esta obra es “La danza” y es del principal pintor del fauvismo, es decir, de...

- a) Picasso
- b) Vlaminck
- c) Matisse
- d) Derain



6.10. Este cuadro es de estilo...

- a) Fauvista
- b) Cubista
- c) Surrealista
- d) Abstracto

7. Relacione las Vanguardias con el contexto histórico que vivieron estos artistas y escriba cuál es su vanguardia preferida, indicando que aspectos le gustan más de dicho movimiento, cuál es su artista favorito y su obra predilecta. (0,15 puntos)

CUADRO DE CORRECCIÓN- NO ESCRIBIR – ANOTACIONES DEL PROFESOR

1-40, 2-25, 3-15, 4-25, 5-30, 6-50, 7-15

4º ESPAD – **Ámbito Sociedad**

Cuadernillo **BLOQUE 12** (Temas 7, 8 y 9) Págs. 15 a 20

Entrega hasta el 17 de MAYO de 2024

1º Apellido:	2º Apellido:	NOTA
Nombre:	Edad:	
Localidad de residencia:		Sobre 2 puntos

14

1. Responda estas preguntas sobre la Unión Europea. *(0,05 puntos x 5 preguntas = 0,25)*

1.1. ¿Qué países componen el BENELUX? _____

1.2. Escribe el significado de CEE, CECA y Euroatom.

1.3. ¿Después de qué tratado la CEE pasó a denominarse Unión Europea? _____

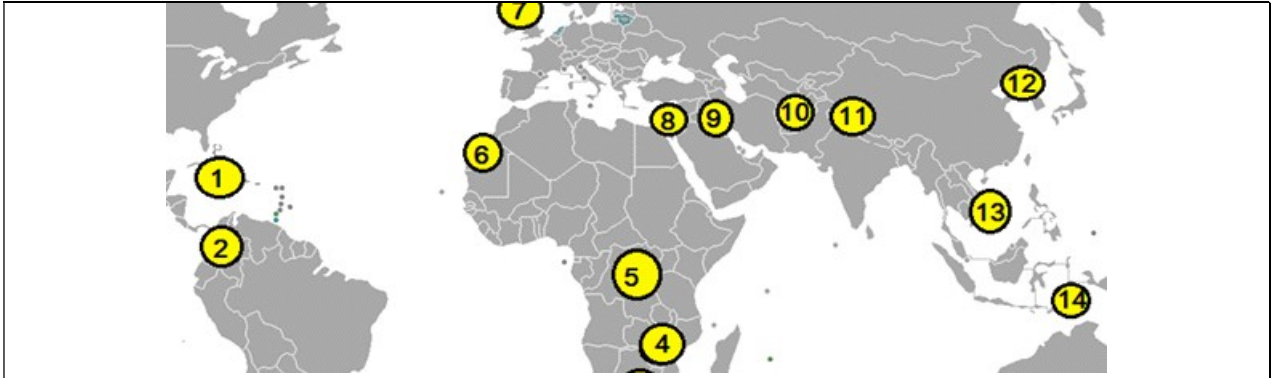
1.4. ¿A qué país se le llama la “locomotora europea” y cuántos países forman la UE?

1.5. ¿Dónde se reúnen los eurodiputados y qué institución europea dirige la política monetaria?

2. ¿Explica en pocas palabras qué son la Perestroika y la Glasnost? *(0,10 puntos)*

3. Desde su punto de vista, ¿cuál es la razón primordial que explica la caída del gigante soviético con sus 22 millones de Km² y casi 300 millones de habitantes? Razone su respuesta *(0,10 p)*


4. Ayudándose de mapa, texto y fotografías, conteste las preguntas: (0,05 puntos x 10 preg= 0,50)



Entre 1936 y 1939, la región experimentó una gran insurgencia por parte de los árabes nacionalistas, que fue conocida como la "Gran Revuelta Árabe". La chispa que encendió este conflicto fue el fuerte incremento de la inmigración judía, principalmente causada por aquellos que huían de la persecución nazi en Alemania y la ola de antisemitismo de Europa del Este. La revuelta fue liderada por el Gran Muftí Amin al-Husayni y su familia. Los árabes sentían que estaban siendo marginados en su propia región, y por eso, además de protestas no violentas, llevaron a cabo acciones terroristas, asesinando a varios cientos de judíos. Los hombres de Husayni mataron más árabes que judíos, usando la revuelta como una excusa para enfrentarse a los clanes rivales. La organización judía Irgun contestó con su propia campaña de represalia, colocando bombas en mercados y en otros lugares que también causaron cientos de muertos. Finalmente, la revuelta fue aplastada por los británicos, usando medidas draconianas. Como Amin al-Husayni fue encontrado culpable del asesinato del comisionado británico para Galilea, huyó de la región, pasando por Líbano, Iraq y finalmente Alemania en 1941. **David Solar.**



El Mufti y Hitler entrevistándose en Berlín, noviembre de 1941. (Wikipedia Licencia CC)



Amin al-Husayni pasando revista a tropas bosnias de las SS. (Wikipedia CC)

- 4.1. ¿De qué conflicto, aún vigente, nos muestra el texto uno de sus precedentes?
 - a) Árabe-israelí b) Judío-musulmán c) Nazi-británico d) Árabe-británico
- 4.2. ¿Este conflicto con qué número se indica en el mapamundi? _____
- 4.3. ¿Qué significa las siglas ONU? _____
- 4.4. La ONU planteó un plan, que finalmente fue aprobado, para crear dos países. ¿Cuáles?
 - a) Arabia Saudita e Israel c) Israel y Palestina
 - b) Irgun y Arabia Saudí d) Hebrea e Islamistán

- 4.5. ¿Qué país citado en la pregunta anterior fue formado por judíos? _____
- 4.6. La ONU aprobó el plan en su Asamblea General ¿Cómo se vota y aprueban los planes?
- Un país un voto, tanto los diez países elegidos cada año como los cinco fijos que tienen derecho a veto (URSS, EEUU, Francia, Reino Unido y China). Se aprueba con 8 votos.
 - Un voto por país y sin derecho de veto de ningún país. La mayoría simple vale.
 - Cada país se pronuncia y suma una cantidad de votos proporcional a su tamaño demográfico, las resoluciones se aprueban con mayoría de 3/5 de la población mundial.
 - Un voto por país y sin que ninguno de los cinco grandes ejerza su voto.
- 4.7. Poco después de la votación comenzó una serie de cuatro guerras, la de Liberación, la de Suez, la tercera y la del Yom Kippur. ¿Sabría decirme como se llama la tercera guerra?
- Guerra Semita
 - De los Seis Días
 - De Irak o del Golfo
 - Del Líbano
- 4.8. ¿Qué relación hay entre la Guerra del Yom Kippur y la crisis del petróleo de 1973?

5. Responde a las preguntas o señala la respuesta correcta. (0,05 puntos x 8 pregs = 0,40)

5.1. ¿Con qué tarjeta tienes más riesgo de gastar más de lo que tienes y endeudarte?

- Débito
- Crédito
- Prepago
- DNI

5.2. Con una tarjeta de débito cuando realizas una compra...

- Se te adeuda inmediatamente en la cuenta, es decir, se te carga en la cuenta.
- Se te suma a lo ya gastado y a principios del siguiente mes se te carga la totalidad.
- El montante se paga entre el 1 y el 5 del mes siguiente, pero sin intereses.

5.3. ¿Las cotizaciones sociales a la Seguridad Social, quién las paga?

- Las empresas
- Los trabajadores
- Empresas y trabajadores

5.4. ¿Qué es la inflación y con qué índice se mide?

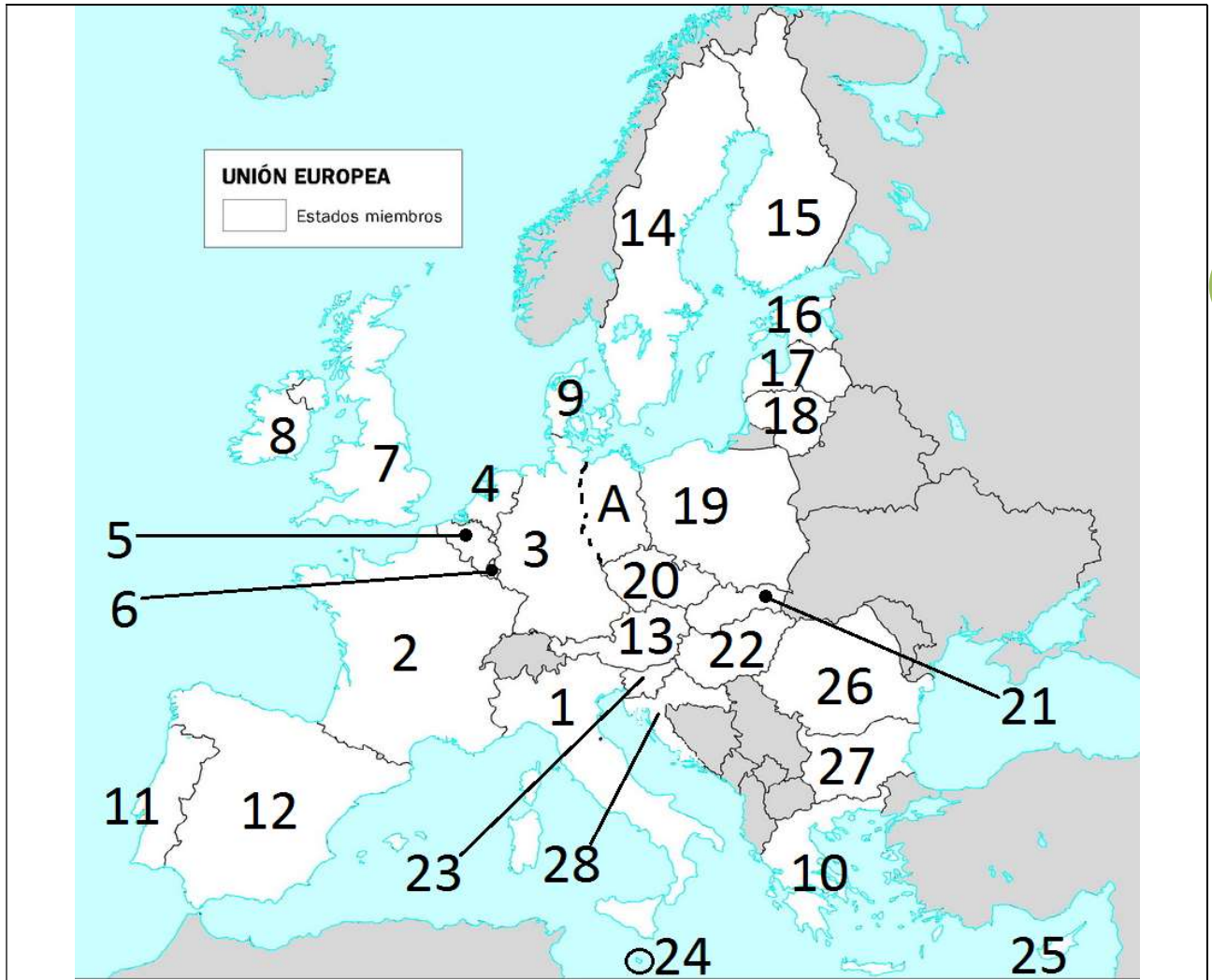
5.5. ¿En el acrónimo LGTBIQ+ qué representan las letras Q y cómo son esas personas?

5.6. ¿En el acrónimo LGTBIQ+ qué representa el signo matemático de más?

5.7. ¿Existe el derecho de Asilo para las personas LGTBIQ+? ¿Sí o no? _____

5.8. ¿Conoces algún caso de discriminación a personas LGTBIQ+? Explícalo y da tu opinión.

6. Escriba el nombre de los países de la UE en la lista numerada (0,30 puntos)



17

<p>Seis fundadores (1957)</p> <p>Nº1 _____</p> <p>Nº2 _____</p> <p>Nº3 Rep. Federal Alemana</p> <p>Nº4 _____</p> <p>Nº5 _____</p> <p>Nº6 _____</p> <p>Ampliación Atlántica (1973)</p> <p>Nº7 _____</p> <p>Nº8 _____</p> <p>Nº9 _____</p> <p>Ampliación de 1981</p> <p>Nº10 _____</p>	<p>Ampliación Ibérica (1986)</p> <p>Nº11 _____</p> <p>Nº12 _____</p> <p>Ampliación de 1995</p> <p>Nº13 _____</p> <p>Nº14 _____</p> <p>Nº15 _____</p> <p>A → Unificación _____</p> <p>Gran ampliación de 2004</p> <p>Nº16 _____</p> <p>Nº17 _____</p> <p>Nº18 _____</p> <p>Nº19 _____</p>	<p>Nº20 _____</p> <p>Nº21 _____</p> <p>Nº22 _____</p> <p>Nº23 _____</p> <p>Nº24 _____</p> <p>Nº25 _____</p> <p>Ampliación de 2007</p> <p>Nº26 _____</p> <p>Nº27 _____</p> <p>Ampliación de 2013</p> <p>Nº28 _____</p> <p>Bréxit</p> <p>Nº _____</p>
---	---	--

7. Rellene el cuadro con los nombres de las Comunidades Autónomas, sus capitales y sus provincias. Tiene ejemplos de Asturias (uniprovincial) y del País Vasco (pluriprovincial). (0,35 p)



COMUNIDADES AUTÓNOMAS UNIPROVINCIALES			
NOMBRE DE LA COMUNIDAD	CAPITAL	NOMBRE COMUNIDAD	CAPITAL
4		6	
5		7 Asturias	Oviedo
COMUNIDADES AUTÓNOMAS PLURIPROVINCIALES			
NOMBRE DE LA COMUNIDAD	CAPITAL	Nombre de las PROVINCIAS que la forman	
País Vasco	Vitoria	1 Guipúzcoa	3 Álava
		2 Vizcaya	
		8	10
		9	11
		12	17
		13	18
		14	19
		15	20
		16	
		41	43
		42	
		44	46
		45	47
CUADRO DE CORRECCIÓN- NO ESCRIBIR – ANOTACIONES DEL PROFESOR 1-25, 2-10, 3-10, 4-50 5-40 6-30 7-35			